

Klasse **4****Körper (II)**


Name: \_\_\_\_\_

① **Beschrifte den Körper.**

Ecke

Fläche

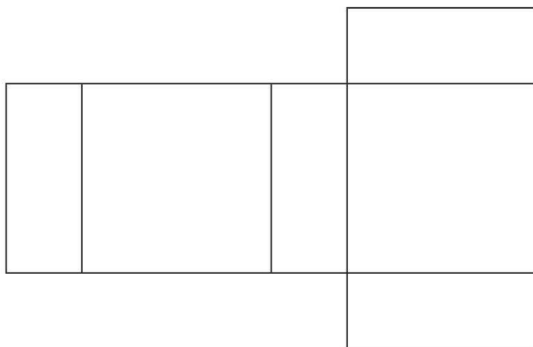
Kante



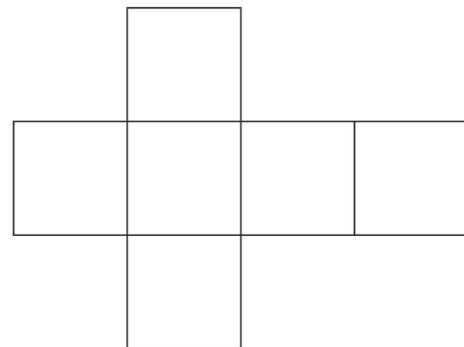
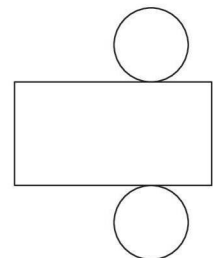
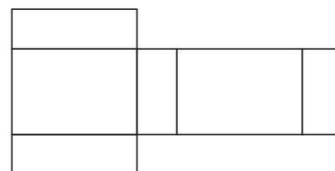
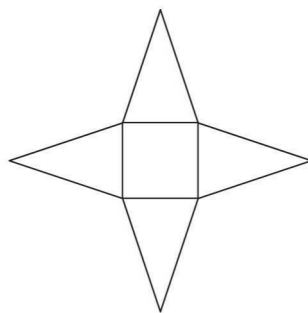
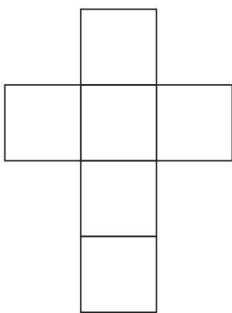
Diesen Körper nennt man: \_\_\_\_\_

② **Stelle dir den Körper vor, der entsteht.  
Male die gegenüberliegenden Flächen mit der gleichen Farbe an.**

a)



b)

③ **Welche Körper entstehen? Ordne zu.**

Quader

Zylinder

Pyramide

Würfel