



Klasse **4****Körper (I)**

Name: \_\_\_\_\_

① ☀ Welche Bezeichnung passt wozu? Verbinde.



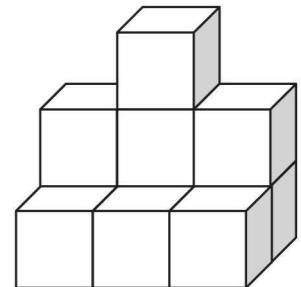
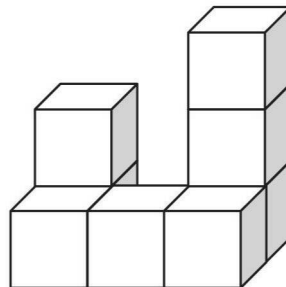
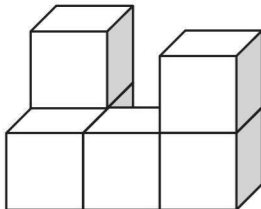
Zylinder

Kugel

Quader

Würfel

② ☀☀ Ordne den Gebäuden die richtigen Baupläne zu.



2	0	3
1	1	1

2	3	2
1	1	1

2	0	0
1	1	2

③ ☀☀ Notiere drei Beispiele aus deiner Umwelt für ...

... eine Kugel: \_\_\_\_\_

... einen Quader: \_\_\_\_\_

... einen Zylinder: \_\_\_\_\_