

1 Wie heißen die Zahlen?

6T	4ZT	2Z
8H	5E	

9Z	5T	7E
3ZT	8H	

2ZT	4Z	6E
9H	8T	

2E	4Z	6T
8H	9ZT	

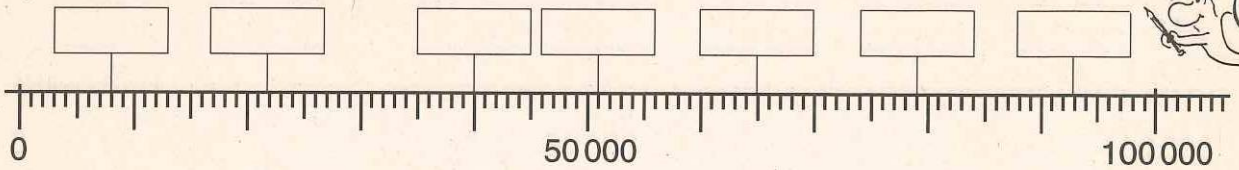
8T	7ZT
6Z	5E

9Z	5ZT
3H	4E

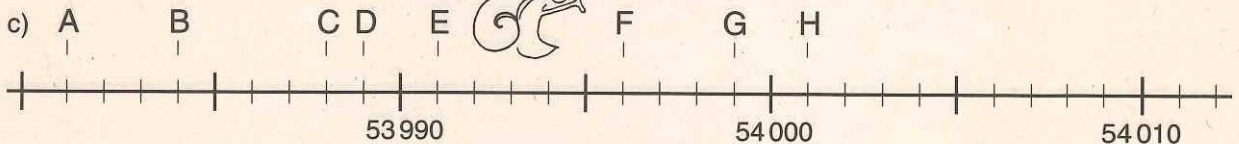
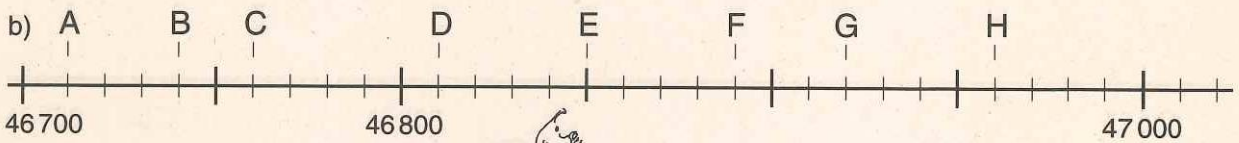
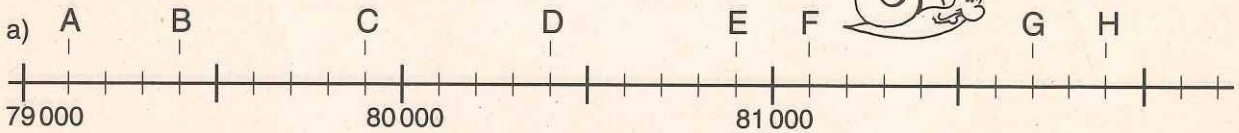
9ZT
3H 5E

7E	8Z
5ZT	

2 Wie heißen die Zahlen am Zahlenstrahl?



3 Für welche Zahlen stehen die Buchstaben?



	A	B	C	D	E	F	G	H
a)	79 100							
b)								
c)								

4 Nenne Vorgänger und Nachfolger!

Vorgänger						
Zahl	39 990	27 999	40 030	76 100	80 000	70 009
Nachfolger						

5 Ordne die Zahlen nach der Größe!

- 48 625, 86 254, 62 548, 25 486 _____
- 54 909, 99 045, 59 904, 49 509 _____
- 35 672, 57 263, 67 253, 25 378 _____
- 27 854, 82 745, 84 572, 42 758 _____

