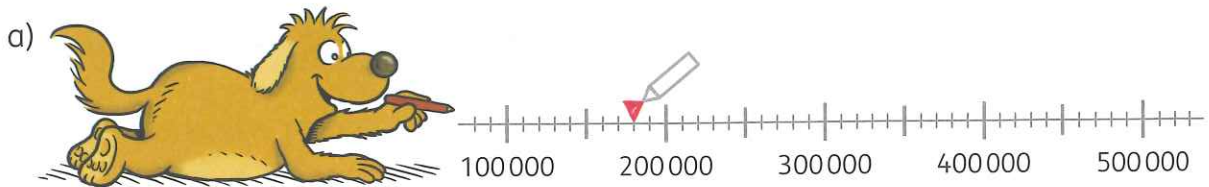


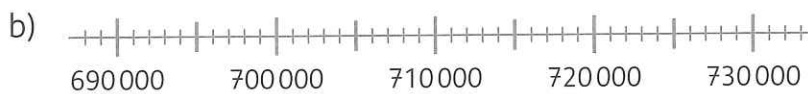
# Zahlenstrahl bis 1 000 000

1



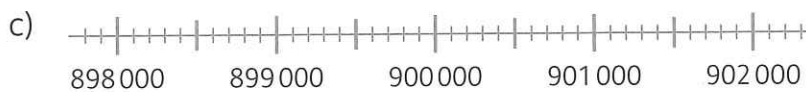
Markiere oben im Zahlenstrahl die Startzahlen **180 000**, **420 000**, **330 000**, **160 000**.  
 Zähle dann in **Zehntausenderschritten** vorwärts und rückwärts.  
 Notiere die nächsten fünf Zahlen.

Startzahl	180 000	190 000	200 000	210 000	220 000	230 000
	180 000	170 000	160 000	150 000	140 000	130 000



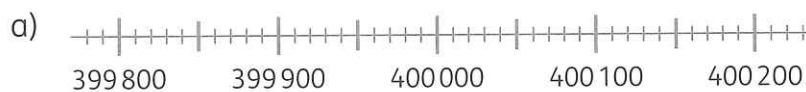
Vorwärts: 725 000, 726 000, ...  
 Rückwärts: 725 000, 724 000, ...

Markiere oben im Zahlenstrahl die Startzahlen **725 000**, **698 000**, **717 000**, **700 000**.  
 Zähle dann in **Tausenderschritten** vorwärts und rückwärts.  
 Notiere die nächsten fünf Zahlen.




Markiere oben im Zahlenstrahl die Startzahlen **898 700**, **899 600**, **900 300**, **901 200**.  
 Zähle dann in **Hunderterschritten** vorwärts und rückwärts.  
 Notiere die nächsten fünf Zahlen.

2



Vorwärts: 399 960, 399 970, ...  
 Rückwärts: 399 960, 399 950, ...

Markiere oben im Zahlenstrahl die Startzahlen **399 960**, **399 810**, **400 040**, **400 150**. Zähle dann in **Zehnerschritten** vorwärts und rückwärts. Notiere die nächsten fünf Zahlen.



Markiere oben im Zahlenstrahl die Startzahlen **599 985**, **599 997**, **600 004**, **600 019**.  
 Zähle dann in **Einerschritten** vorwärts und rückwärts.  
 Notiere die nächsten fünf Zahlen.

**Lehrtipp 6**

In Schritten vorwärts und rückwärts zählen, Veranschaulichung nutzen.

Seite fertig am: