


Zahlenstrahl bis 1 000 000



1 Wo liegt 742 500? Markiere.



In 10 Strichen von 700 000 bis 800 000. Jeder Strich bedeutet _____.
710 000, 720 000, 730 000, _____

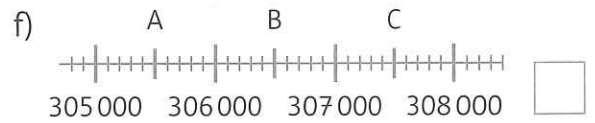
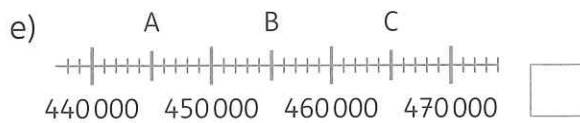
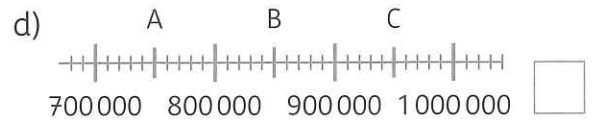
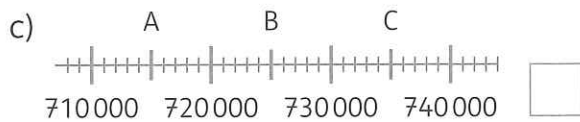
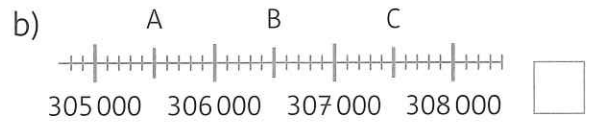
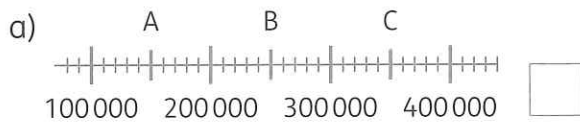


In 10 Strichen von 740 000 bis 750 000. Jeder Strich bedeutet _____.
741 000, 742 000 _____



2 Finde heraus, was die Striche jeweils bedeuten. Trage ZT oder T oder H ein.

Notiere die Zahlen für A, B, C im Heft.



3 Ordne die Zahlen nach der Größe. Beginne mit der kleinsten Zahl.

a) 365 000, 360 500, 356 000, 305 600, 300 650

b) 705 030, 700 503, 753 000, 705 300, 703 050

c) 654 321, 653 214, 632 154, 635 241, 653 411
